

**Всероссийская проверочная работа**  
**по профильному учебному предмету «МАТЕМАТИКА»**  
**для обучающихся по программам среднего профессионального образования,**  
**завершивших в предыдущем учебном году освоение общеобразовательных предметов,**  
**проходящих обучение по очной форме на базе основного общего образования.**

**Вариант 20292**

**Инструкция по выполнению работы**

На выполнение работы по математике отводится 2 часа (120 минут). Работа включает в себя 15 заданий.

Ответы на задания запишите в поля ответов в тексте работы. В случае записи неверного ответа зачеркните его и запишите рядом новый.

При выполнении работы не разрешается пользоваться учебниками, рабочими тетрадями, справочниками, калькулятором.

При необходимости можно пользоваться черновиком. Записи в черновике проверяться и оцениваться не будут.

Советуем выполнять задания в том порядке, в котором они даны. Для экономии времени пропускайте задание, которое не удаётся выполнить сразу, и переходите к следующему. Если после выполнения всей работы у Вас останется время, то Вы сможете вернуться к пропущенным заданиям.

Баллы, полученные Вами за выполненные задания, суммируются. Постарайтесь выполнить как можно больше заданий и набрать наибольшее количество баллов.

***Желаем успеха!***

*Таблица для внесения баллов участника*

Номер задания	1	2	3	4	5	6	7	8	9	10	11	12	13	14	15	Сумма баллов	Отметка за работу
Баллы																	

1 Найдите значение выражения  $\frac{7,3-2,5}{1,2}$ .

□ Ответ: \_\_\_\_\_.

2 В городе 130 000 жителей, причём 40% — это пенсионеры. Сколько пенсионеров в этом городе?

□ Ответ: \_\_\_\_\_.

3 Площадь четырёхугольника можно вычислить по формуле  $S = \frac{1}{2}d_1d_2 \sin \alpha$ , где  $d_1$  и  $d_2$  — длины диагоналей четырёхугольника,  $\alpha$  — угол между диагоналями. Пользуясь этой формулой, найдите площадь  $S$ , если  $d_1 = 6$ ,  $d_2 = 14$  и  $\sin \alpha = \frac{6}{7}$ .

□ Ответ: \_\_\_\_\_.

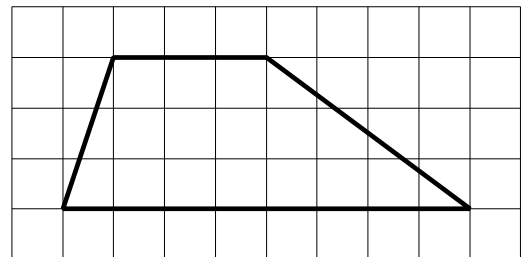
4 Найдите значение выражения  $\frac{\sqrt{18}}{\sqrt{2}}$ .

□ Ответ: \_\_\_\_\_.

5 Сырок стоит 16 рублей. Какое наибольшее число сырков можно купить на 205 рублей?

□ Ответ: \_\_\_\_\_.

6 На клетчатой бумаге с размером клетки  $1 \times 1$  изображена трапеция. Найдите её площадь.



□ Ответ: \_\_\_\_\_.

7 Турист подбирает экскурсии. Сведения об экскурсиях представлены в таблице.


Номер экскурсии	Посещаемые объекты	Стоимость (руб.)
1	Загородный дворец	350
2	Загородный дворец, музей живописи	400
3	Парк, крепость	300
4	Загородный дворец, парк	200
5	Крепость	200
6	Музей живописи	150

Пользуясь таблицей, выберите набор экскурсий так, чтобы турист посетил четыре объекта: крепость, загородный дворец, парк и музей живописи, а суммарная стоимость экскурсий не превышала 650 рублей.

В ответе укажите какой-нибудь один набор номеров экскурсий без пробелов, запятых и других дополнительных символов.

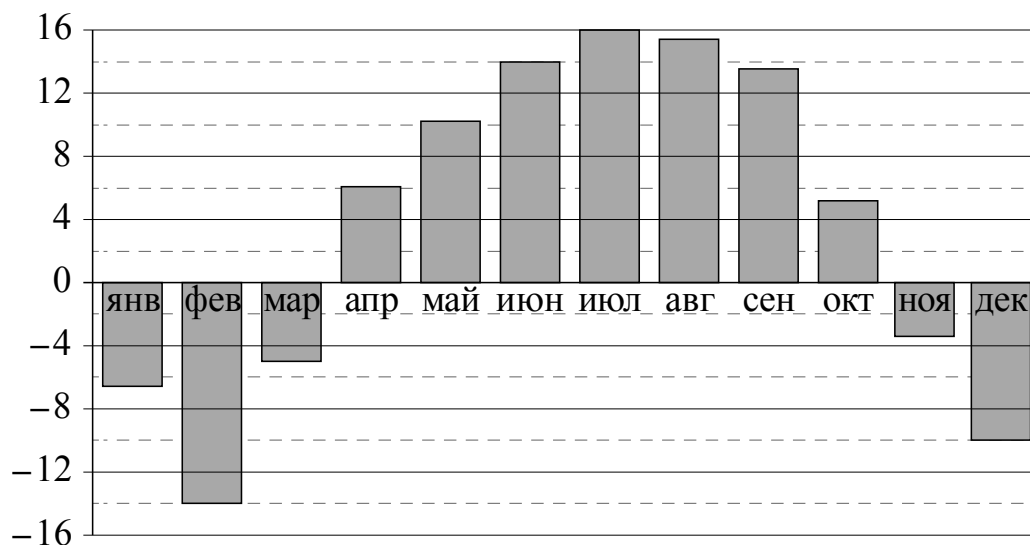
Ответ: \_\_\_\_\_.

8 Даны две кружки цилиндрической формы. Первая кружка в четыре с половиной раза выше второй, а вторая в полтора раза шире первой. Во сколько раз объём второй кружки меньше объёма первой?



Ответ: \_\_\_\_\_.

9 На диаграмме показана среднемесячная температура воздуха в Нижнем Новгороде за каждый месяц 1994 года. По горизонтали указываются месяцы, по вертикали — температура в градусах Цельсия. Определите по приведённой диаграмме, сколько было месяцев с положительной среднемесячной температурой.



Ответ: \_\_\_\_\_.

10

Перед волейбольным турниром измерили рост игроков волейбольной команды города N. Оказалось, что рост каждого из волейболистов этой команды больше 190 см и меньше 210 см. Выберите утверждения, которые верны при указанных условиях.

- 1) В волейбольной команде города N обязательно есть игрок, рост которого равен 220 см.
- 2) В волейбольной команде города N нет игроков с ростом 189 см.
- 3) Рост любого волейболиста этой команды меньше 210 см.
- 4) Разница в росте любых двух игроков волейбольной команды города N составляет более 20 см.

В ответе запишите номера выбранных утверждений без пробелов, запятых и других дополнительных символов.

Ответ: \_\_\_\_\_.

11

Научная конференция проводится в 3 дня. Всего запланировано 70 докладов: в первый день 28 докладов, остальные распределены поровну между вторым и третьим днями. На конференции планируется доклад профессора M. Порядок докладов определяется жеребьёвкой. Какова вероятность того, что доклад профессора M. окажется запланированным на последний день конференции?

Ответ: \_\_\_\_\_.

12

Найдите корень уравнения  $\sqrt{22-3x} = 2$ .

Ответ: \_\_\_\_\_.

13

Каждому из четырёх неравенств в левом столбце соответствует одно из решений в правом столбце. Установите соответствие между неравенствами и их решениями.

НЕРАВЕНСТВА

РЕШЕНИЯ

А)  $\log_4 x > 1$

1)  $0 < x < \frac{1}{4}$

Б)  $\log_4 x > -1$

2)  $x > \frac{1}{4}$

В)  $\log_4 x < -1$

3)  $0 < x < 4$

Г)  $\log_4 x < 1$

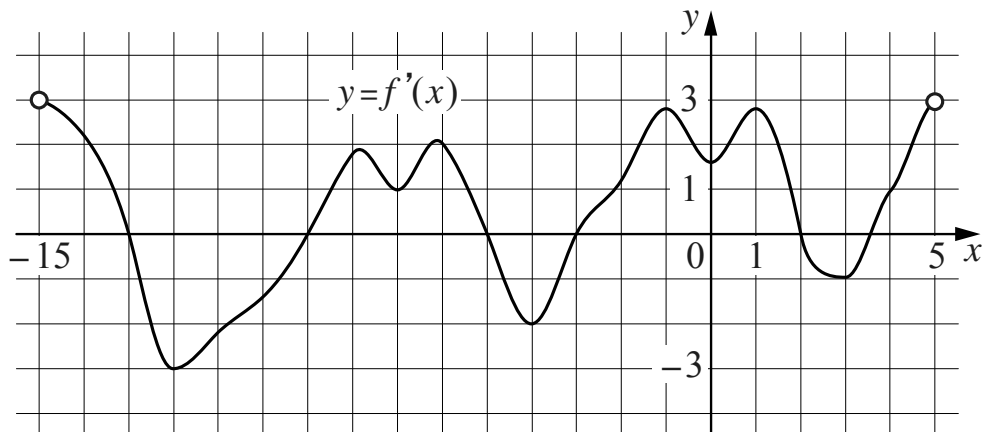
4)  $x > 4$

Впишите в приведённую в ответе таблицу под каждой буквой соответствующий решению номер.

Ответ:

А	Б	В	Г

- 14 На рисунке изображён график  $y = f'(x)$  — производной функции  $f(x)$ , определённой на интервале  $(-15; 5)$ . Найдите количество точек максимума функции  $f(x)$ , принадлежащих отрезку  $[-11; 4]$ .



□ Ответ: \_\_\_\_\_.

- 15 Теплоход проходит по течению реки до пункта назначения 775 км и после стоянки возвращается в пункт отправления. Найдите скорость течения, если скорость теплохода в неподвижной воде равна 28 км/ч, стоянка длится 5 часов, а в пункт отправления теплоход возвращается через 61 час. Ответ дайте в км/ч.

□ Ответ: \_\_\_\_\_.