

Всероссийская проверочная работа
по профильному учебному предмету «МАТЕМАТИКА»
для обучающихся по программам среднего профессионального образования,
завершивших в предыдущем учебном году освоение общеобразовательных предметов,
проходящих обучение по очной форме на базе основного общего образования.

Вариант 77421

Инструкция по выполнению работы

На выполнение работы по математике отводится 2 часа (120 минут). Работа включает в себя 15 заданий.

Ответы на задания запишите в поля ответов в тексте работы. В случае записи неверного ответа зачеркните его и запишите рядом новый.

При выполнении работы не разрешается пользоваться учебниками, рабочими тетрадями, справочниками, калькулятором.

При необходимости можно пользоваться черновиком. Записи в черновике проверяться и оцениваться не будут.

Советуем выполнять задания в том порядке, в котором они даны. Для экономии времени пропускайте задание, которое не удаётся выполнить сразу, и переходите к следующему. Если после выполнения всей работы у Вас останется время, то Вы сможете вернуться к пропущенным заданиям.

Баллы, полученные Вами за выполненные задания, суммируются. Постарайтесь выполнить как можно больше заданий и набрать наибольшее количество баллов.

Желаем успеха!

Таблица для внесения баллов участника

| Номер задания | 1 | 2 | 3 | 4 | 5 | 6 | 7 | 8 | 9 | 10 | 11 | 12 | 13 | 14 | 15 | Сумма баллов | Отметка за работу |
|---------------|---|---|---|---|---|---|---|---|---|----|----|----|----|----|----|--------------|-------------------|
| Баллы | | | | | | | | | | | | | | | | | |

1 Найдите значение выражения $(6,8 - 2,3) \cdot 22$.

Ответ: _____.

2 В городе 60 000 жителей, причём 35% — это пенсионеры. Сколько пенсионеров в этом городе?

Ответ: _____.

3 Радиус окружности, описанной около треугольника, можно вычислить по формуле $R = \frac{a}{2 \sin \alpha}$, где a — сторона, α — противолежащий ей угол треугольника. Пользуясь этой формулой, найдите радиус R , если $a = 8$ и $\sin \alpha = \frac{1}{7}$.

Ответ: _____.

4 Найдите значение выражения $\log_3 0,3 + \log_3 30$.

Ответ: _____.

5 На счёте Машиного мобильного телефона было 82 рубля, а после разговора с Леной осталось 40 рублей. Известно, что разговор длился целое число минут, а одна минута разговора стоит 3 рубля 50 копеек. Сколько минут длился разговор с Леной?

Ответ: _____.

6 На клетчатой бумаге с размером клетки 1×1 изображён треугольник. Найдите его площадь.



Ответ: _____.

7

В таблице приведены данные о шести чемоданах.

| Номер чемодана | Длина (см) | Высота (см) | Ширина (см) | Масса (кг) |
|----------------|------------|-------------|-------------|------------|
| 1 | 57 | 45 | 26 | 21 |
| 2 | 79 | 44 | 15 | 25 |
| 3 | 61 | 54 | 43 | 22 |
| 4 | 60 | 47 | 30 | 23,5 |
| 5 | 63 | 58 | 48 | 35 |
| 6 | 70 | 48 | 42 | 22 |

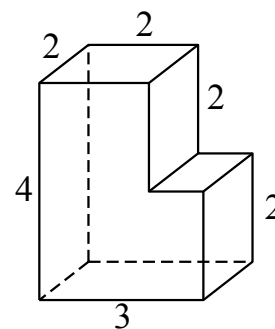
По правилам авиакомпании сумма трёх измерений (длина, высота, ширина) чемодана, сдаваемого в багаж, не должна превышать 158 см, а масса не должна быть больше 23 кг. Какие чемоданы можно сдать в багаж по правилам этой авиакомпании?

В ответе укажите номера всех выбранных чемоданов без пробелов, запятых и других дополнительных символов.

Ответ: _____.

8

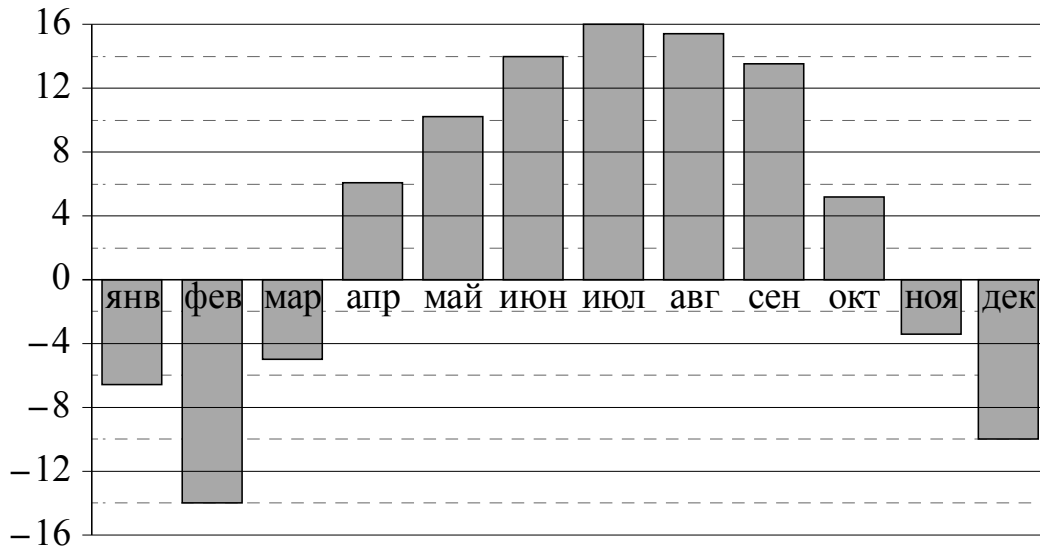
Деталь имеет форму изображённого на рисунке многогранника (все двугранные углы прямые). Числа на рисунке обозначают длины рёбер в сантиметрах. Найдите объём этой детали. Ответ дайте в кубических сантиметрах.



Ответ: _____.

9

На диаграмме показана среднемесячная температура воздуха в Нижнем Новгороде за каждый месяц 1994 года. По горизонтали указываются месяцы, по вертикали — температура в градусах Цельсия. Определите по приведённой диаграмме наибольшую среднемесячную температуру в первой половине 1994 года. Ответ дайте в градусах Цельсия.



Ответ: _____.

10

В доме Мити больше этажей, чем в доме Маши, в доме Лены меньше этажей, чем в доме Маши, а в доме Толи больше этажей, чем в Ленинском доме. Выберите утверждения, которые верны при указанных условиях.

- 1) Дом Лены самый малоэтажный среди перечисленных четырёх.
- 2) В доме Маши меньше этажей, чем в доме Лены.
- 3) В Митином доме больше этажей, чем в Ленинском.
- 4) Среди этих четырёх домов есть три дома с одинаковым количеством этажей.

В ответе запишите номера выбранных утверждений без пробелов, запятых и других дополнительных символов.

Ответ: _____.

11

Конкурс исполнителей проводится в 5 дней. Всего заявлено 75 выступлений: по одному от каждой страны, участвующей в конкурсе. Исполнитель из России участвует в конкурсе. В первый день запланировано 27 выступлений, остальные распределены поровну между оставшимися днями. Порядок выступлений определяется жеребьёвкой. Какова вероятность того, что выступление исполнителя из России состоится в третий день конкурса?

Ответ: _____.

12

Найдите корень уравнения $\sqrt{5x+11} = 4$.

Ответ: _____.

13

Каждому из четырёх неравенств в левом столбце соответствует одно из решений в правом столбце. Установите соответствие между неравенствами и их решениями.

НЕРАВЕНСТВА

- А) $2^x \geq 1$
 Б) $0,5^x \geq 2$
 В) $0,5^x \leq 2$
 Г) $2^x \leq 1$

РЕШЕНИЯ

- 1) $x \leq -1$
 2) $x \leq 0$
 3) $x \geq 0$
 4) $x \geq -1$

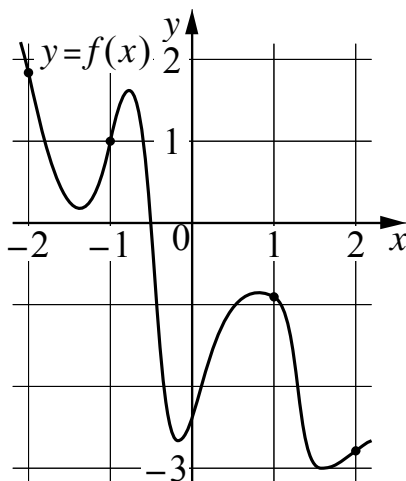
Впишите в приведённую в ответе таблицу под каждой буквой соответствующий номер решения.

Ответ:

| А | Б | В | Г |
|---|---|---|---|
| | | | |

14

На рисунке изображён график функции $y = f(x)$. На оси абсцисс отмечены точки -2 , -1 , 1 , 2 . В какой из этих точек значение производной наибольшее? В ответе укажите эту точку.



Ответ: _____.

15

Пристань А и В расположены на озере, расстояние между ними равно 264 км. Баржа отправилась с постоянной скоростью из А в В. На следующий день после прибытия она отправилась тем же путём обратно со скоростью на 2 км/ч больше прежней, сделав по пути остановку на 1 час. В результате она затратила на обратный путь столько же времени, сколько на путь из А в В. Найдите скорость баржи на пути из А в В. Ответ дайте в км/ч.

Ответ: _____.