

**Всероссийская проверочная работа**  
**по профильному учебному предмету «МАТЕМАТИКА»**  
**для обучающихся по программам среднего профессионального образования,**  
**завершивших в предыдущем учебном году освоение общеобразовательных предметов,**  
**проходящих обучение по очной форме на базе основного общего образования.**

**Вариант 78564**

**Инструкция по выполнению работы**

На выполнение работы по математике отводится 2 часа (120 минут). Работа включает в себя 15 заданий.

Ответы на задания запишите в поля ответов в тексте работы. В случае записи неверного ответа зачеркните его и запишите рядом новый.

При выполнении работы не разрешается пользоваться учебниками, рабочими тетрадями, справочниками, калькулятором.

При необходимости можно пользоваться черновиком. Записи в черновике проверяться и оцениваться не будут.

Советуем выполнять задания в том порядке, в котором они даны. Для экономии времени пропускайте задание, которое не удаётся выполнить сразу, и переходите к следующему. Если после выполнения всей работы у Вас останется время, то Вы сможете вернуться к пропущенным заданиям.

Баллы, полученные Вами за выполненные задания, суммируются. Постарайтесь выполнить как можно больше заданий и набрать наибольшее количество баллов.

***Желаем успеха!***

*Таблица для внесения баллов участника*

Номер задания	1	2	3	4	5	6	7	8	9	10	11	12	13	14	15	Сумма баллов	Отметка за работу
Баллы																	

1 Найдите значение выражения  $\frac{2,4}{5,4-7,8}$ .

□ Ответ: \_\_\_\_\_.

2 Площадь земель фермерского хозяйства, отведённых под посадку сельскохозяйственных культур, составляет 63 гектара и распределена между зерновыми и бахчевыми культурами в отношении 4:5 соответственно. Сколько гектаров занимают зерновые культуры?

□ Ответ: \_\_\_\_\_.

3 Площадь треугольника можно вычислить по формуле  $S = \frac{abc}{4R}$ , где  $a$ ,  $b$  и  $c$  — стороны треугольника, а  $R$  — радиус окружности, описанной около этого треугольника. Пользуясь этой формулой, найдите площадь  $S$ , если  $a = 15$ ,  $b = 28$ ,  $c = 41$  и  $R = \frac{205}{6}$ .

□ Ответ: \_\_\_\_\_.

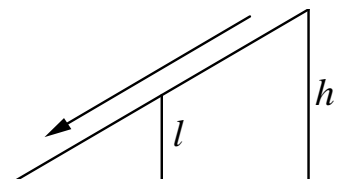
4 Найдите значение выражения  $\sqrt{20} \cdot \sqrt{1,8}$ .

□ Ответ: \_\_\_\_\_.

5 В пачке 250 листов бумаги формата А4. За неделю в офисе расходуется 1100 листов. Какого наименьшего количества пачек бумаги хватит на 4 недели?

□ Ответ: \_\_\_\_\_.

6 Столб подпирает детскую горку посередине. Найдите высоту  $l$  этого столба, если высота  $h$  горки равна 3,8 м. Ответ дайте в метрах.



□ Ответ: \_\_\_\_\_.

7

Любовь Игнатьевна собирается в туристическую поездку на трое суток в некоторый город. В таблице дана информация о гостиницах в этом городе со свободными номерами на время её поездки.

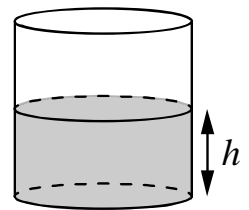
Название гостиницы	Рейтинг гостиницы	Расстояние до центральной площади (км)	Цена номера (руб. за сутки)
«Южная»	7,3	2,8	3400
«Уют-плюс»	8,6	2,3	2700
«Центральная»	8,9	3,1	3300
«Вокзальная»	9,8	0,5	4500
«Турист»	8,5	1,2	3200
«Эльдорадо»	3,5	5,4	1200

Любовь Игнатьевна хочет остановиться в гостинице, которая находится не далее 2,4 км от центральной площади города и цена номера в которой не превышает 3500 рублей за сутки. Среди гостиниц, удовлетворяющих этим условиям, выберите гостиницу с наивысшим рейтингом. Сколько рублей стоит проживание в этой гостинице в течение трёх суток?

Ответ: \_\_\_\_\_.

8

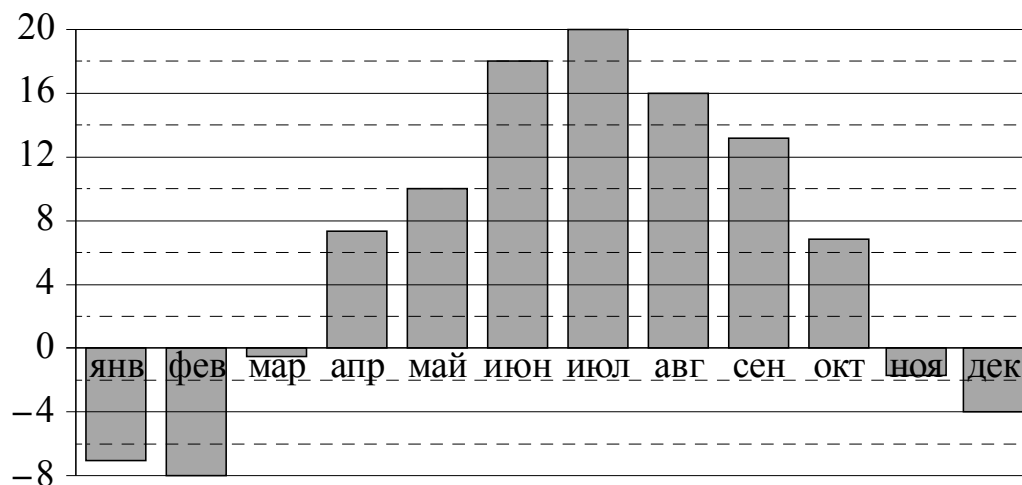
Вода в сосуде цилиндрической формы находится на уровне  $h = 20$  см. На каком уровне окажется вода, если её перелить в другой цилиндрический сосуд, у которого радиус основания вдвое больше, чем у данного? Ответ дайте в сантиметрах.



Ответ: \_\_\_\_\_.

9

На диаграмме показана среднемесячная температура воздуха в Санкт-Петербурге за каждый месяц 1999 года. По горизонтали указываются месяцы, по вертикали — температура в градусах Цельсия. Определите по приведённой диаграмме, сколько было месяцев с положительной среднемесячной температурой.



Ответ: \_\_\_\_\_.

10

В классе учится 25 человек, из них 16 человек посещают кружок по английскому языку, а 13 — кружок по немецкому языку. Выберите утверждения, которые верны при указанных условиях.

- 1) Каждый ученик из этого класса посещает и кружок по английскому языку, и кружок по немецкому языку.
- 2) Найдётся хотя бы три человека из этого класса, которые посещают оба кружка.
- 3) Если ученик из этого класса ходит на кружок по английскому языку, то он обязательно ходит на кружок по немецкому языку.
- 4) Не более 13 человек из этого класса посещают оба кружка.

В ответе запишите номера выбранных утверждений без пробелов, запятых и других дополнительных символов.

Ответ: \_\_\_\_\_.

11

В группе туристов 30 человек. Их вертолёт доставляет в труднодоступный район, перевозя по 6 человек за рейс. Порядок, в котором вертолёт перевозит туристов, случаен. Найдите вероятность того, что турист В., входящий в состав группы, полетит первым рейсом вертолёта.

Ответ: \_\_\_\_\_.

12

Найдите корень уравнения  $\sqrt{57-7x} = 6$ .

Ответ: \_\_\_\_\_.

13

Каждому из четырёх неравенств в левом столбце соответствует одно из решений в правом столбце. Установите соответствие между неравенствами и их решениями.

НЕРАВЕНСТВА

РЕШЕНИЯ

- А)  $2^x \geq 1$   
 Б)  $0,5^x \geq 2$   
 В)  $0,5^x \leq 2$   
 Г)  $2^x \leq 1$

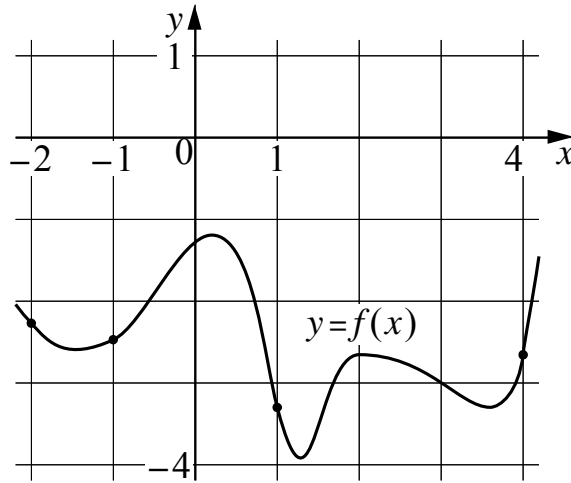
- 1)  $(-\infty; -1]$   
 2)  $(-\infty; 0]$   
 3)  $[-1; +\infty)$   
 4)  $[0; +\infty)$

Впишите в приведённую в ответе таблицу под каждой буквой соответствующий решению номер.

Ответ:

А	Б	В	Г

- 14 На рисунке изображён график функции  $y = f(x)$ . На оси абсцисс отмечены точки  $-2$ ,  $-1$ ,  $1$ ,  $4$ . В какой из этих точек значение производной наибольшее? В ответе укажите эту точку.



Ответ: \_\_\_\_\_.

- 15 Расстояние между пристанями А и В равно 192 км. Из А в В по течению реки отправился плот, а через 3 часа вслед за ним отправилась яхта, которая, прибыв в пункт В, тотчас повернула обратно и возвратилась в А. К этому времени плот проплыл 92 км. Найдите скорость яхты в неподвижной воде, если скорость течения реки равна 4 км/ч. Ответ дайте в км/ч.

Ответ: \_\_\_\_\_.